



Visita-Taller
Cicle Superior
Primària

“Els vapors de Sants. Descubrim la
revolució industrial a través dels
documents”

Quadern de l'alumne



1. Visita a l'Arxiu

1. Completa la definició següent omplint els buits amb una de les paraules de sota:

història, documents, Arxiu, municipal, conserven

L' _____ és un equipament _____ on es
_____ els _____ que ens ajuden a conèixer la
nostra _____ .

2. Anomena quines són les sales que té l'Arxiu.

3. Què es fa a cada espai de l'Arxiu?

NOM DE L'ESPAI	FUNCIÓ

4. Encercla el que s'hi guarda a l'Arxiu de Sants-Montjuïc.



Telèfon, Schola Didàctica Activa S.L, 2015




Casa Garcia, Francesca Almodèjar, 1980



Tren Vapor, UEC Sants, 1929



Programa festes inauguració cotxeres de Sants AMDSM, 1984



Certificat Celestino Busquets, AMDSM, 1940



Esquilla, Schola Didàctica Activa S.L, 2012

5. Relaciona l'estri amb el suport d'escriptura corresponent



2. Taller de recerca

6. Observa les fotografies i omple les fitxes següents:

FITXA DESCRIPTIVA FOTOGRÀFICA	
TÍTOL DE LA FOTOGRAFIA:	
TIPUS DE DOCUMENT:	
DATA:	
SUPORT:	
CROMIA:	<input type="checkbox"/> Blanc i negre <input type="checkbox"/> Color
ESTAT DE CONSERVACIÓ:	
PROCEDÈNCIA:	
MODALITAT D'INGRÉS:	
NOM DE L'ARXIU:	
RESUM GENERAL:	




GRUP FÀBRQUES

1. Descriu l'estructura externa de les fàbriques que has observat en les fotografies que t'hem proporcionat i amb quins materials estaven construïdes.

2. Classifica-les segons el seu sector productiu i el producte fabricat.

FÀBRICA	PRODUCTE	SECTOR PRODUCTIU
Can Batllori  <i>Terrisseria Batllori, Joan Campañà i Mora</i>		
Vapor Vell  <i>El Vapor Vell, Miquel Fomer i Todó, 1920</i>		
Santiveri  <i>Fàbrica Santiveri, J. Lluís Vila Moreno, 1996</i>		
Can Batlló  <i>Can Batlló, Anselm Castañá, 1964</i>		

3. Identifica les següents energies i encercla les que feien servir durant la revolució industrial.



4. Relaciona l'espai actual de la ciutat amb el nom de la fàbrica corresponent.

Serra-Balet ●

Can Batlló ●

Agrupació Vidriera ●

Vapor Vell ●

Terrisseria Batllori ●

Santiveri ●

L'Espanya Industrial ●

● Botiga

● Parc

● Biblioteca

● Club esportiu

● Plaça amb el seu nom

● Zona residencial

● Fàbrica

GRUP MÓN OBRER

1. Omple la graella explicant quines classes socials apareixen amb la revolució industrial i quines eren les seves característiques.

CLASSE SOCIAL	CARACTERÍSTIQUES

2. Explica a quina classe social pertany cada habitatge i explica'n les característiques principals.



C. Ibèria, IEC Sants, febrer 1977

Classe social:	
Característiques	



C. Sants, 54. Veclus S.L, abril 1991

Classe social:	
Característiques	

3. Observa la fotografia. A partir de la lectura de la definició sobre les escoles bressol, explica on es trobaven aquestes llars d'infants.



La cuna. Fàbrica L'Espanya Industrial

4. Quines distraccions tenien els obrers?

DISTRACCIÓ	CARACTERÍSTIQUES

GRUP CANVIS URBANÍSTICS

1. Explica les principals característiques del territori de Sants abans de la revolució industrial.



2. Marca quins dels edificis següents apareixen durant la revolució industrial.

Bar Masia Església Benzineria Casino

Mercat Estació Ajuntament Fonda Fàbrica

3. La revolució industrial va comportar grans canvis en els pobles i ciutats. Observa les fotografies que et proporciona l'Arxiu i escriu el nom del tipus d'edifici que es tracta.

CANVIS URBANÍSTICS	TIPUS D'EDIFICI
 <p data-bbox="249 772 502 799"><i>Estació Magòria, AMDSM, 1914</i></p>	
 <p data-bbox="264 1044 482 1071"><i>Hotel Plaza, AMDSM, 1929</i></p>	
 <p data-bbox="249 1328 544 1355"><i>Mercat Nou, Manuel Blasi, juliol 1935</i></p>	
 <p data-bbox="249 1618 536 1645"><i>Grup Escolar Lluís Vives, març 1931</i></p>	
 <p data-bbox="235 1960 565 1987"><i>C. Creu Coberta, Isabel Santamaria, 1963</i></p>	