


Quadern d'activitats

8



1. Imagineu que aquest fons marí és com la ciutat de la segona imatge, i que els peixos i les tortugues són els vianants! En quin lloc els posaríeu perquè estiguessin segurs? Els taurons, què representa que són a la ciutat?



2. Representeu a la família la vostra pròpia obra de teatre amb titelles (ninos, dits pintats, etc.). L'obra ha de tractar sobre algun tema relacionat amb la seguretat viària o amb les funcions de proximitat de la Guàrdia Urbana.



En la nostra obra, les titelles s'han perdut, però a prop hi ha una patrulla de la Guàrdia Urbana. Què haurien de fer per trobar la seva família?



Imatge creada amb l'app Puppet Pals2

Anota el número de telèfon mòbil d'algun dels teus familiars:

○ ○ ○ ○ ○ ○ ○ ○ ○ ○

3. Anota en el requadre corresponent quina és la palanca de fre davantera i quina és la palanca de fre de la roda del darrere. Comenta amb la família o amics què pot passar si només frenem amb la roda de davant.



4. Aquí teniu un nou examen de conduir bicicleta!



1. En aquesta situació, què haurà de fer la persona conductora de la bicicleta?



2. Qui té preferència, els vehicles que circulen dins la rotonda o els que s'hi volen incorporar?



3. En quina direcció haurà d'anar la conductora d'aquesta bicicleta?



5. Troba les 7 diferències entre aquestes dues imatges de la Unitat de Circulació de la Guàrdia Urbana:



Solucions:

Pregunta 1



La zona segura pels peixos i tortugues estaria als laterals de la imatge, que serien com les voreres de les ciutats! La part de dalt de la imatge, per on poden passar, equivaldria als nostres passos de vianants. Els taurons serien els cotxes!

Pregunta 2



Si alguna vegada us perdeu no dubteu en demanar-nos ajuda!

Pregunta 3



Fre roda darrera

Fre roda davant

Pregunta 4

1. La persona conductora de la bicicleta haurà de cedir el pas al vianant. A sobre del semàfor de vianants, que està en verd, hi ha una llum groga intermitent que obliga les persones conductores a extremar les precaucions i, si s'escau, a cedir el pas.

2. Els vehicles que circulen dins la rotonda tenen preferència sobre els que s'hi volen incorporar.

3. La conductora té davant un senyal d'obligació a la dreta. La fletxa indica la direcció i el sentit que els vehicles tenen l'obligació de seguir.

Pregunta 5

